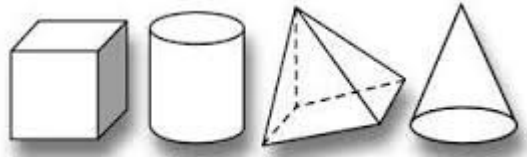


Volumen



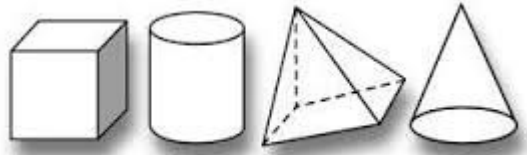
Nombre: _____

Empiezo la ficha el día: _____

1. Completo el cuadro:

Nombre	Para hallar el volumen	Figura
Cilindro		
Prisma		
Cono		
Pirámide		
Esfera		

Volumen




Nombre: _____

Empiezo la ficha el día: _____

Las unidades de volumen (m^3)

1. La relación entre unidades de volumen y capacidad (metro cúbico y litro)



2. Expreso en decímetros cúbicos (dm^3):

a) 3'42 litros =

b) 0'98 dal =

c) 4'90 cl =

d) 0'09 hl =

3. Escribo la fórmula de la densidad:

4. Hallo el volumen del capirote de un cofrade de Semana Santa, sabiendo que tiene 9 cm de radio y 60 cm de altura.

5. Calcula el volumen de un balón de 15 cm de diámetro.