




# El (Z)orro de los números

Nombre: \_\_\_\_\_

Empiezo la ficha el día: \_\_\_\_\_


1. Con un lápiz o rotulador rojo perfilo las figuras de los muñecos que están boca-abajo.
2. Coloreo los muñecos que están boca-abajo de color rojo.
3. Con un lápiz o rotulador azul perfilo las figuras que están boca-arriba.
4. Coloreo los muñecos que están boca-arriba de color azul.



He encontrado ..... muñecos que están verticales boca-abajo.

He encontrado ..... muñecos que están verticales boca-arriba.

He encontrado ..... muñecos que están horizontales.




# El (Z)orro de los números

Nombre: \_\_\_\_\_

Empiezo la ficha el día: \_\_\_\_\_

Perros y gatos.

1. Con un lápiz o rotulador de color azul perfilo los dibujos de los perros.
2. Coloreo los perros de color azul. (+)
3. Coloreo los gatos de color amarillo. (-)



He encontrado ..... perros (+)

He encontrado ..... gatos (-)



## El (Z)orro de los números

Nombre: \_\_\_\_\_

Empiezo la ficha el día: \_\_\_\_\_

1. Completo...

		-2	-1	0	+1	+2			
--	--	----	----	---	----	----	--	--	--

Coloreo la parte negativa de color rojo y la parte positiva de color azul. El cuadro del cero lo dejo en blanco.

2. Coloco el coche donde corresponde en el ascensor.

(+) subo, (-) bajo

+ 1 - 1 =

- 1 - 1 =

+ 2 - 1 =


- 2 + 1 =

0 + 1 =

+ 1 - 3 =

+ 2 - 3 =

	+ 2
	+ 1
	0 - entrada
	- 1
	- 2



Copio en el cuaderno un coche como el de la ficha, lo coloreo de rojo. Recorto y pongo en el ascensor para saber en qué piso está.



# El (Z)orro de los números

Nombre: \_\_\_\_\_

Empiezo la ficha el día: \_\_\_\_\_

Multiplico:

a)  $+ 5 \cdot (- 8) = - 40$

b)  $+ 8 \cdot (- 5) =$

c)  $- 5 \cdot (- 8) =$

d)  $+ 6 \cdot (- 10) =$

e)  $+ 7 \cdot (+ 4) =$

f)  $- 2 \cdot (- 9) =$

g)  $+ 12 \cdot (- 3) =$

+	·	+	=	+
-	·	-	=	+
+	·	-	=	-
-	·	+	=	-

Coloreo los cuadros del signo (+) en color azul y los cuadros del signo (-) de color rojo.

Divido:

a)  $+ 40 : (- 8) = - 5$

b)  $+ 40 : (- 8) =$

c)  $- 15 : (- 3) =$

d)  $+ 26 : (- 2) =$

e)  $+ 28 : (+ 4) =$

h)  $- 27 : (- 9) =$

+	:	+	=	+
-	:	-	=	+
+	:	-	=	-
-	:	+	=	-

Coloreo los cuadros del signo (+) en color azul y los cuadros del signo (-) de color rojo.